

WYPEŁNIA ZDAJĄCY

KOD

--	--	--

PESEL

--	--	--	--	--	--	--	--	--	--	--	--

**Miejsce na naklejkę.**

Sprawdź, czy kod na naklejce to

**M-100.**

Jeżeli tak – przyklej naklejkę.

Jeżeli nie – zgłoś to nauczycielowi.

**Egzamin maturalny**

**Formuła 2023**

**MATEMATYKA**

**Poziom podstawowy**

Symbol arkusza

**MMAP-P0-100-2306**

DATA: **2 czerwca 2023 r.**

GODZINA ROZPOCZĘCIA: **9:00**

CZAS TRWANIA: **180 minut**

LICZBA PUNKTÓW DO UZYSKANIA: **46**

WYPEŁNIA ZESPÓŁ NADZORUJĄCY


Uprawnienia zdającego do:

- dostosowania zasad oceniania
- dostosowania w zw. z dyskalkulią
- nieprzenoszenia zaznaczeń na kartę.




**Przed rozpoczęciem pracy z arkuszem egzaminacyjnym**


1. Sprawdź, czy nauczyciel przekazał Ci **właściwy arkusz egzaminacyjny**, tj. arkusz we **właściwej formule**, z **właściwego przedmiotu** na **właściwym poziomie**.
2. Jeżeli przekazano Ci **niewłaściwy** arkusz – natychmiast zgłoś to nauczycielowi. Nie rozrywaj banderol.
3. Jeżeli przekazano Ci **właściwy** arkusz – rozerwij banderole po otrzymaniu takiego polecenia od nauczyciela. Zapoznaj się z instrukcją na stronie 2.





## Instrukcja dla zdającego

1. Sprawdź, czy arkusz egzaminacyjny zawiera 34 strony (zadania 1–33).  
Ewentualny brak zgłoś przewodniczącemu zespołu nadzorującego egzamin.
2. Na pierwszej stronie arkusza oraz na karcie odpowiedzi wpisz swój numer PESEL i przyklej naklejkę z kodem.
3. Symbol  zamieszczony w nagłówku zadania oznacza, że rozwiązanie zadania zamkniętego musisz przenieść na kartę odpowiedzi.
4. Odpowiedzi do zadań zamkniętych zaznacz na karcie odpowiedzi w części karty przeznaczonej dla zdającego. Zamaluj  pola do tego przeznaczone. Błędne zaznaczenie otocz kółkiem  i zaznacz właściwe.
5. Pamiętaj, że pominięcie argumentacji lub istotnych obliczeń w rozwiązaniu zadania otwartego może spowodować, że za to rozwiązanie nie otrzymasz pełnej liczby punktów.
6. Rozwiązania zadań i odpowiedzi wpisuj w miejscu na to przeznaczonym.
7. Pisz czytelnie i używaj tylko długopisu lub pióra z czarnym tuszem lub atramentem.
8. Nie używaj korektora, a błędne zapisy wyraźnie przekreśl.
9. Pamiętaj, że zapisy w brudnopisie nie będą oceniane.
10. Możesz korzystać z *Wybranych wzorów matematycznych*, cyrkla i linijki oraz kalkulatora prostego. Upewnij się, czy przekazano Ci broszurę z okładką taką jak widoczna poniżej.




**Zadania egzaminacyjne są wydrukowane  
na następnych stronach.**



**Zadanie 3. (0–2)**

Wykaż, że dla każdej liczby całkowitej  $k$  reszta z dzielenia liczby  $49k^2 + 7k - 2$  przez 7 jest równa 5.








**Zadanie 8. (0–2)**

Rozwiąż nierówność

$$x(2x - 1) < 2x$$

Zapisz obliczenia.






**Zadanie 9. (0–3)**

Rozwiąż równanie

$$x^3 + 4x^2 - 9x - 36 = 0$$

Zapisz obliczenia.






























**Zadanie 24. (0–1)** 


Pole trójkąta równobocznego  $T_1$  jest równe  $\frac{(1,5)^2 \cdot \sqrt{3}}{4}$ . Pole trójkąta równobocznego  $T_2$  jest równe  $\frac{(4,5)^2 \cdot \sqrt{3}}{4}$ .

**Dokończ zdanie tak, aby było prawdziwe. Wybierz odpowiedź A albo B oraz jej uzasadnienie 1., 2. albo 3.**

Trójkąt  $T_2$  jest podobny do trójkąta  $T_1$  w skali

<b>A.</b>	3,	ponieważ	<b>1.</b>	każdy z tych trójkątów ma dokładnie trzy osie symetrii.
			<b>2.</b>	pole trójkąta $T_2$ jest 9 razy większe od pola trójkąta $T_1$ .
<b>B.</b>	9,		<b>3.</b>	bok trójkąta $T_2$ jest o 3 dłuższy od boku trójkąta $T_1$ .

*Brudnopis*


















**Zadanie 32. (0–2)**

Ze zbioru ośmiu kolejnych liczb naturalnych – od 1 do 8 – losujemy kolejno bez zwracania dwa razy po jednej liczbie.

Niech  $A$  oznacza zdarzenie polegające na tym, że suma wylosowanych liczb jest dzielnikiem liczby 8.

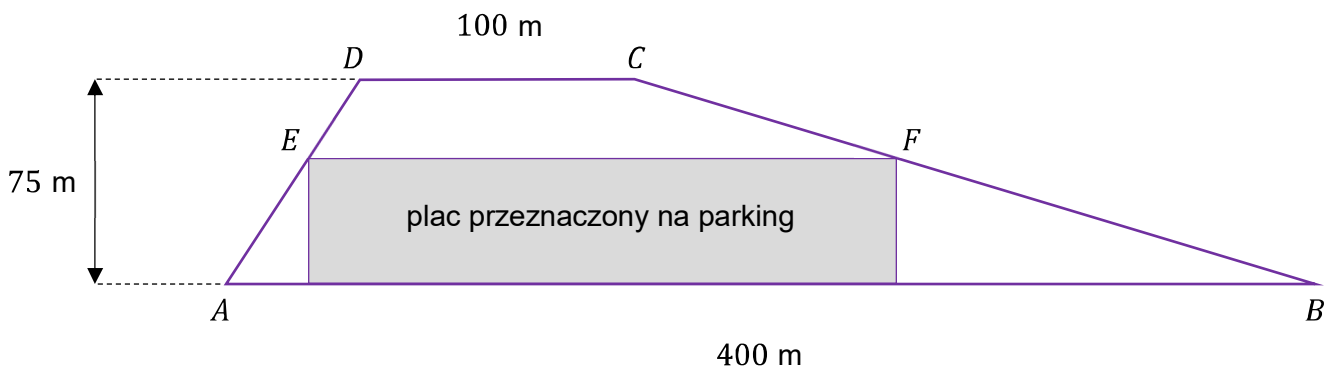
**Oblicz prawdopodobieństwo zdarzenia  $A$ . Zapisz obliczenia.**



**Zadanie 33. (0–4)**

Działka ma kształt trapezu. Podstawy  $AB$  i  $CD$  tego trapezu mają długości  $|AB| = 400$  m oraz  $|CD| = 100$  m. Wysokość trapezu jest równa  $75$  m, a jego kąty  $DAB$  i  $ABC$  są ostre.

Z działki postanowiono wydzielić plac w kształcie prostokąta z przeznaczeniem na parking. Dwa z wierzchołków tego prostokąta mają leżeć na podstawie  $AB$  tego trapezu, a dwa pozostałe –  $E$  oraz  $F$  – na ramionach  $AD$  i  $BC$  trapezu (zobacz rysunek).





**Wyznacz długości boków prostokąta, dla których powierzchnia wydzielonego placu będzie największa. Wyznacz tę największą powierzchnię. Zapisz obliczenia.**

*Wskazówka:*

*Aby powiązać ze sobą wymiary prostokąta, skorzystaj z tego, że pole trapezu  $ABCD$  jest sumą pól trapezów  $ABFE$  oraz  $EFCD$ :*


$$P_{ABCD} = P_{ABFE} + P_{EFCD}$$
















# MATEMATYKA

Poziom podstawowy

*Formuła 2023*



# MATEMATYKA

Poziom podstawowy

*Formuła 2023*



# MATEMATYKA

Poziom podstawowy

*Formuła 2023*

